



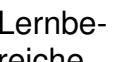


Mein Plan für Woche 4:

Lernbereich	Diese Aufgaben soll ich in dieser Woche bearbeiten.		Habe ich meinen Wochenplan geschafft?
Deutsch 	Deutschbuch, S. 76+77: Ein Chamäleon zu Hause? – Behauptungen und Argumente unterscheiden: Aufgaben 2-5. Die Lösungen sind im separaten Deutschheft zu notieren!		😊 😐 😞, denn _____ _____ _____ _____ _____
Mathe 	AB: „Brüche“		😊 😐 😞, denn _____ _____ _____ _____
Englisch 	Englischbuch: S. 76, Aufgaben 1-3A; Aufgabe 3B kann freiwillig bearbeitet werden. zu Aufgabe 1) Fertigt eine Mindmap für die Sachen an, die man für eine Geburtstagsparty braucht. zu Aufgabe 2) Lest den Text mehrfach, schlägt unbekannte Wörter nach und notiert diese in eurem Heft. zu Aufgabe 3A) Korrigiert die Sätze 1-7 mithilfe des Textes. zu Aufgabe 3B) Schreibt die falschen Sätze auf, die mithilfe des Textes verbessert werden können.		😊 😐 😞, denn _____ _____ _____ _____
Weitere Lernbereiche 			😊 😐 😞, denn _____ _____ _____

Aufgaben, die in der Lernzeit oder zu Hause noch zu erledigen sind:

Arbeitsblatt „Brüche“

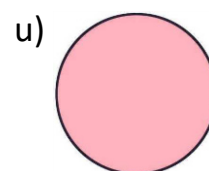
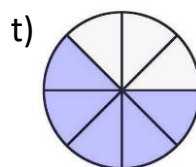
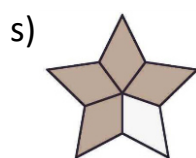
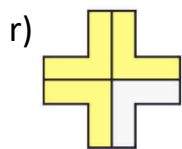
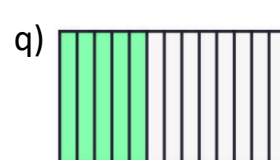
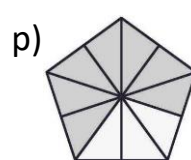
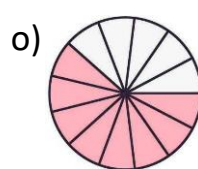
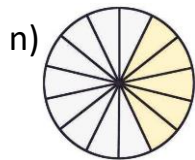
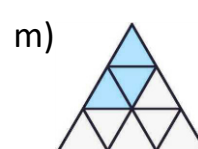
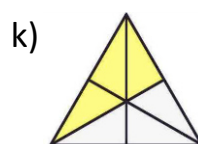
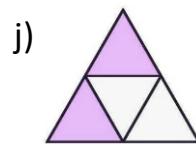
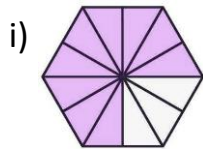
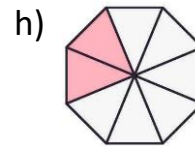
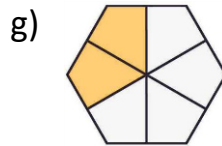
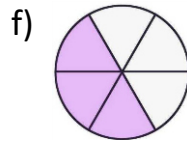
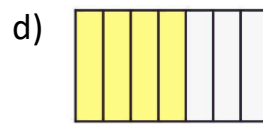
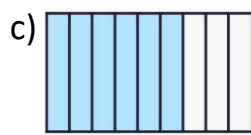
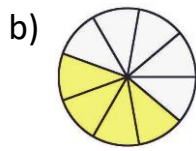
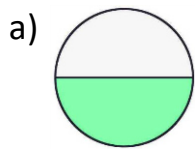
Erinnerung:

Wir haben im Wissensspeicher aufgeschrieben, dass ein Bruch einen Anteil von einem Ganzen darstellt.

Wir haben die Begriffe: Bruch, Zähler, Nenner und Bruchstrich kennengelernt

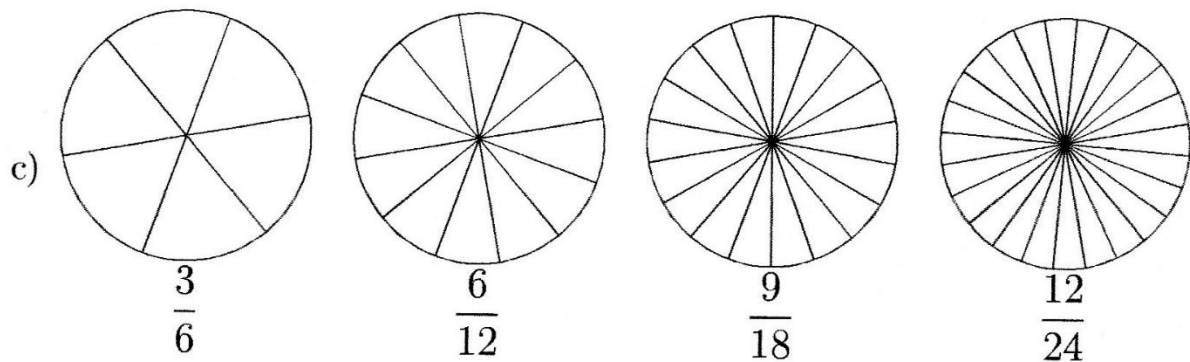
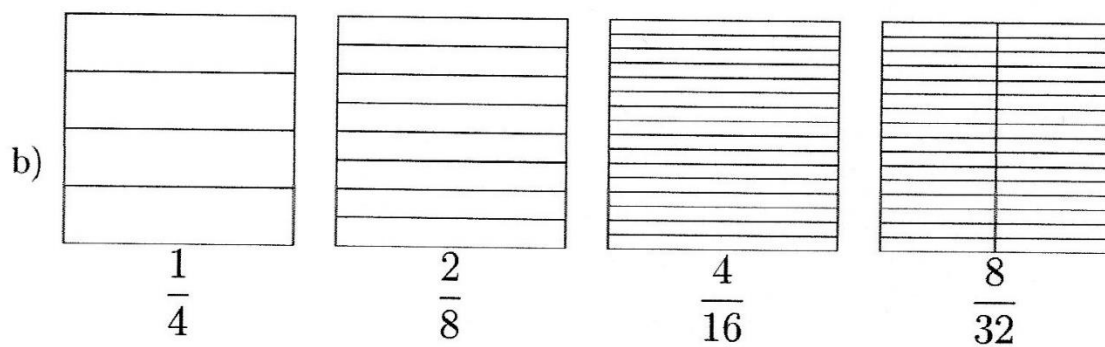
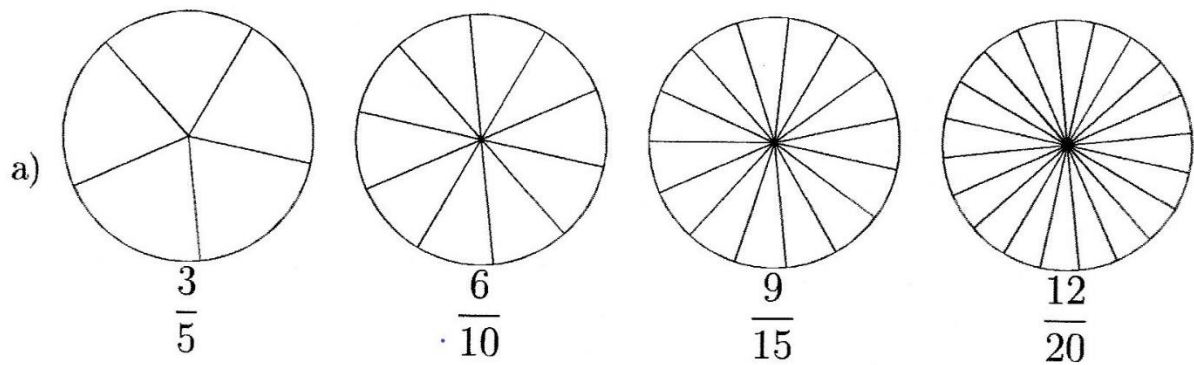
Aufgabe 1:

Welcher Bruchteil ist eingefärbt?



Aufgabe 2:

Färbe die entsprechenden Bruchteile!



Aufgabe 3:

Zeichne jeweils ein Rechteck, das 12 Kästchen lang und 6 Kästchen breit ist.
Stelle dann folgende Brüche farblich dar:

a) $\frac{1}{2}$


b) $\frac{1}{3}$

c) $\frac{1}{9}$

Aufgabe 4:

Färbe...

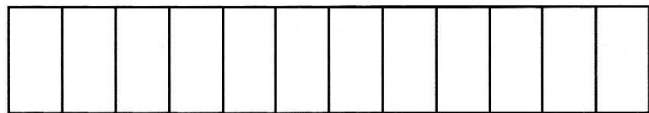
- $\frac{1}{3}$ des Streifens rot, $\frac{1}{4}$ blau und $\frac{1}{6}$ gelb.



- $\frac{1}{3}$ des Streifens rot, $\frac{1}{4}$ des Rests blau und $\frac{1}{6}$ des neuen Rests gelb.



- $\frac{1}{4}$ des Streifens rot, $\frac{1}{3}$ des Rests blau und $\frac{1}{6}$ des neuen Rests gelb.



Welchen Bruchteil macht der ungefärbte Rest aus?

oberer Streifen: _____ mittlerer Streifen: _____ unterer Streifen: _____

Aufgabe 5:

Ergänze die Figur zu einem Ganzen.

Tipps: 1. Versuche ein Rechteck zu erstellen.

2. Zeichne auf einem Extrablatt Papier.

